

Ecole : .....

Enseignant(e) : .....

Nom du groupe : .....

# DEFI MATHS 2025-2026



Problème n° .....

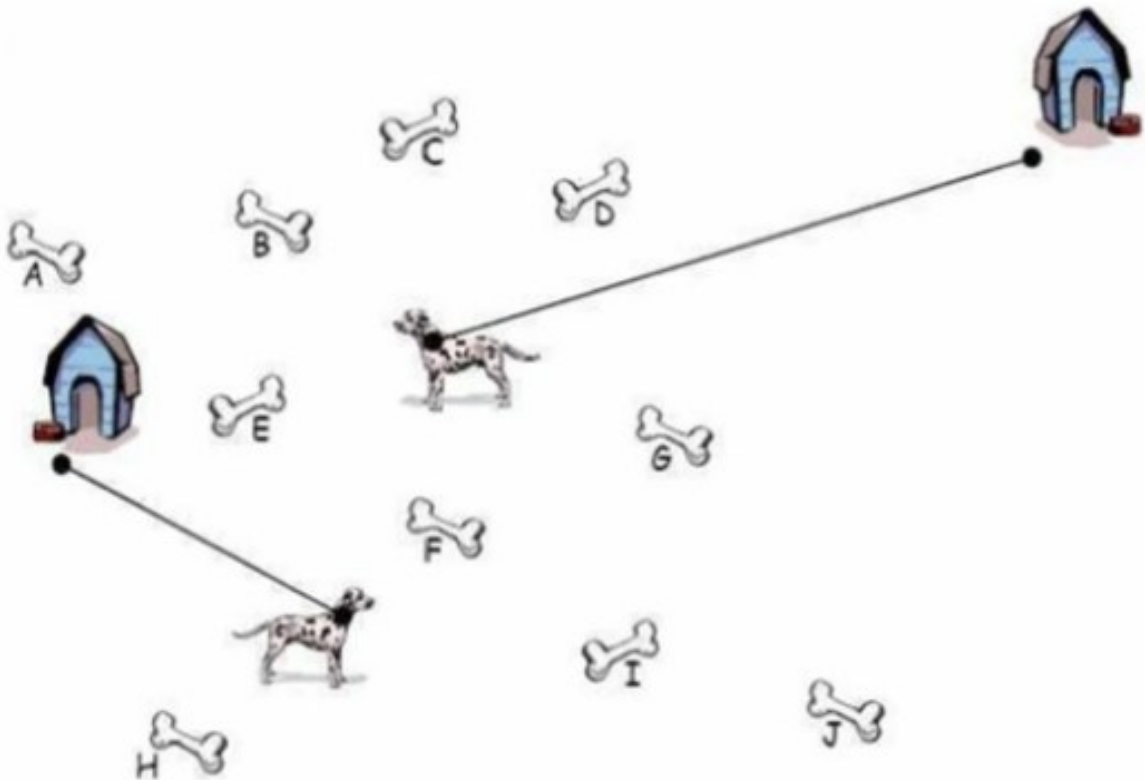
**GS - CP**

**3<sup>e</sup> manche**

## **Problème 1 : les chiens et l'os**

**8 points**

Quel est l'os que les chiens ne pourront pas manger ? .....



## Problème 2 : un chantier

6 points

En faisant des fouilles, des chercheurs ont retrouvé cinq tablettes avec chacune trois symboles. Elles se ressemblent... mais sont toutes différentes. Il en manque une sixième. Dessinez la sixième tablette.



Source : lestylodevero

## Problème 3 : chacun sa place

10 points

Six élèves sont assis autour de la table : Thibault, Perrine, Éline, Valérie, Timo et Titouan. (possibilité d'utiliser le matériel).

Retrouvez la place de chacun en respectant les consignes :

- En face de Thibault, se trouve Perrine.
  - A droite de Thibault, il n'y a pas de garçon.
  - Perrine est à la gauche d'Éline.
  - Timo et Valérie sont face à face.
- Où se trouve Titouan ? .....




**Problème 4 : les bougies**

8 points



Lucas souffle des bougies à chaque anniversaire. Hier, il a eu 7 ans.








Combien a-t-il soufflé de bougies depuis qu'il est né ? .....








Source : Rallye maths 95







**Problème 5 : tableaux à trous**






8 points

Complétez les tableaux avec les formes qui manquent.  
(Matériel à coller en annexe)

		
	?	
		?

?		
		
		?

?		
	?	
		?

	?	?
?		
?		

**Problème 6 : Les carrés**

10 points

Cachez tous les carrés avec les pièces vertes (attention, il ne faut pas déborder).  
(Matériel page suivante)

